

Anyaggazdálkodás 10.D – szakács csoport  
2022/2023-as tanév  
Javító vizsga témakör és mintafeladatok

**A vizsga típusa: írásbeli és szóbeli**

**Konzultáció: 2023. augusztus 24., 8 óra**  
**Vizsga időpontja: 2023. augusztus 25. 8 óra**

Témakörök:

1. A gazdálkodás elemei, a piac
  - alapfogalmak: a piac, kereslet, kínálat, ár, termelés, csere, elosztás, ár, jövedelem, piaci verseny
  - szükségletek, javak
2. A vendéglátás
  - fogalma
  - helye, szerepe a nemzetgazdaságban
  - a vendéglátás jelentősége
  - a vendéglátás feladatai
3. A vendéglátás jelentősége

Gazdasági számítás:

1. a tanult képletek
2.  $V_m$ ,  $V_d$
3. áru nettó és bruttó tömege
4. veszteségszámítás (tisztítási és hőkezelési)
5. tömegnövekedés
6. árképzés
7. készletgazdálkodás
8. termelés elszámoltatása

Mintafeladatok:

Példatárban!!!! Füzetben!!!!

+

## Év végi anyaggazdaság feladatlap - szakács

A szöveges számításos feladatoknál csak az eredményt írd le a mértékegységgel!

### 1) Párosítsd össze a képleteket a megfelelő mutatók elnevezésével!

- HK     elábé     árrés     ÁFA befizetési kötelezettség     forgási sebesség fordulatokban  
 nettó elár     átlagkészlet     forgási sebesség napokban  
 1 nettó elár - árrés     2 (NYK + ZK) : 2     3 bruttó elár - ÁFA tartalom     4 nettó elár x (árrésszint : 100)  
 5 (átlagkészlet x napok száma) : elábé     6 elávé : átlagkészlet     7 árrés : elábé x 100  
 8 értékesítési ÁFA - beszerzési ÁFA

### 2) Töltsd ki a táblázat hiányzó adatait! Ft értéknél egész számra, % értéknél 1 tizedesjegyre kerekíts!

Árucsoport megnevezése	Bevétel EFt	Vm%
Étel	1500	
Ital	2300	
Kávé	350	
Egyéb	200	
Összesen		

### 3) Mennyi az üzlet előző évi bruttó bevétel, ha a bevételnövekedést mutató dinamikus viszonyszám 103 %, és a tárgy évi bruttó bevétel 26.500 Eft? Az eredményt egész számra kerekíts!











### 4) Ha egy adag étel fogyasztói ára 1475 Ft, bruttó nyersanyag értéke 712 Ft, hány százalék a haszonkulcsa? A HK értékét egészre kerekítve add meg!



### 5) Az előző feladatban mennyi az árrésszint értéke? Egészre kerekítve add meg az értéket!





6) Töltsd ki a táblázatot! A forint értékeket egész számra, a %-os értékeket 1 tizedesjegyre kerekítsd!

megnevezés	Megoldás
Bruttó elár Ft	2500
Áfa Ft	
Nettó elár Ft	
Beszerezési ár Ft	
Árrés Ft	1100
HK %	
Árrés%	
Elábé %	
Bruttó beszerzési ár Ft	
Befizetendő Áfa Ft	

7) Állapítsd meg az I. negyedéves átlagkészletet, ha az alábbi készletértékek ismertek: január 1.: 1280 EFt, február 1.:1320 EFt, március 1.: 1370 EFt, március 31.: 1440 EFt. Az értéket egész számra kerekítve add meg!



8) Töltsd ki a táblázat hiányzó adatait! Kerekítés Ft értékeknél egész számra, a többi értéknél 2 tizedesjegyre!

Megnevezés	-
Időszak nap	90
Elábé EFt	16000
Átlagkészlet EFt	
Fsf	6
Fsn	

**9) Töltsd ki a táblázat hiányzó adatait! Kerekítés Ft értékeknel egész számra, a többi értéknél 2 tizedesjegyre!**

megnevezés	-
időszak nap	90
ELÁBÉ EFt	9780
Átlagkészlet EFt	1960
Nyitókészlet EFt	1840
Zárókészlet EFt	
Beszerzés EFt	
Fsf	
Fsn	

**10) Párosítsd össze a meghatározásokat a megfelelő fogalmakkal!**

- az eladók és a vevők találkozásai helye  az áru vagy szolgáltatás pénzben kifejezett értéke
- az eladásra szánt áruk és szolgáltatások azon mennyisége, amelyet az eladó mindenkor adott ár mellett képes és hajlandó eladni
- fizetőképes vásárlási szándék a piacon
- kereslet  a piac  az ár  a kínálat

**11) A felsorolt jellemzőket helyezd el a 2 halmazba! Melyik jellemző tartozik a gazdasági jelentőségbe, melyik a társadalmiba?**

A vendéglátás gazdasági jelentősége

---

A vendéglátás társadalmi jelentősége

---

- javítja az infrastruktúrát  ösztönzőleg hat más nemzetgazdasági ágakra  jövedelmet, nyereséget termel
- valutabevételt jelent az országnak  munkahelyeket teremt  növeli az emberek komfortérzetét
- az emberek közérzetére pozitívan hat  hozzájárul az egészségmegőrzéshez
- hozzájárul az aktív szabadidő eltöltéséhez  megkönnyíti a háztartási munkát
- munkamennyiség-, nyersanyag-, és időtakarékos

**12) Mutasd be a szükségletek csoportosítását! Egészítsd ki az alábbi táblázatot!**

	kielégíthetőség szerint		alanyaik szerint
elsődleges	teljes	anyagi	
harmadlagos			